

驾校一点通安全文明常识模拟考试

总分 100 分（90 分过关）

2013 年新版安全文明题库！若觉得好用，请多帮忙宣传或转发！

- 1、驾驶机动车在这种环境条件下起步前要开启远光灯。



您的答案：错✓ 本题解释

- 2、如图是机动车车道标志。



您的答案：对✓ 本题解释

- 3、高速行驶的机动车，在转向失控的情况下使用紧急制动，不会造成翻车。

您的答案：错✓ 本题解释

- 4、对无骨端外露的骨折伤员肢体固定时，要超过伤口上下关节。

您的答案：错✗ 正确答案：对 本题解释

- 5、移动脊柱骨折的伤员，切勿扶持伤者走动，可用软担架运送。

您的答案：错✓ 本题解释

6、夜间行车，要尽量避免超车，确需超车时，可变换远近光灯向前车示意。

您的答案：对✓ 本题解释

7、如图是单行路标志。



您的答案：对✓ 本题解释

8、如图所示，机动车在人行横道线前停车，后方机动车驾驶人要采取的正确做法是减速慢行或者停车



您的答案：对✓ 本题解释

9、装有 ABS 系统的机动车在冰雪路面上会最大限度缩短制动距离。


您的答案：对✗ 正确答案：错 本题解释

10、行车中对出现这种行为的人不能礼让。



您的答案：错✓ 本题解释

11、如图所示白色标线框内的区域表示禁止车辆停放位置。



您的答案：错✓ 本题解释

12、如图是急弯路标志。



您的答案：对✗ 正确答案：错 本题解释

13、驾驶机动车遇到盲人横过道路时，要停车礼让。

您的答案：对✓ 本题解释

14、如果遇到较强横风，感觉机动车产生横向偏移时，要握紧转向盘并紧急制动。

您的答案：错✓ 本题解释

15、驾驶机动车进入环岛时不用开启转向灯

您的答案：对✓ 本题解释

16、夜间驾驶人对事物的观察能力明显比白天差。

您的答案：对✓ 本题解释

17、图中警察手势为变道信号。



您的答案：错✓ 本题解释

18、在高速公路上驾驶机动车不要频繁地变更车道。

您的答案：对✓ 本题解释

19、机动车通过弯道时，在车况技术性能良好的前提下可以迅速超车。

您的答案：错✓ 本题解释

20、机动车在路边起步后，应随时注意机动车两侧道路情况，向左缓慢转向，逐渐驶入正常行驶道路。

您的答案：错✗ 正确答案：对 本题解释

21、倒车过程中要缓慢行驶，注意观察机动车两侧和后方的情况，随时做好停车准备。

您的答案：**对** ✓ 本题解释

22、如图是禁止向左转弯标志。



您的答案：**对** ✓ 本题解释

23、采用指压止血法为动脉出血伤员止血时，拇指压住伤口的什么位置？



- A、近心端动脉
- B、血管下方动脉
- C、远心端动脉
- D、血管中部

您的答案：**A** ✓ 本题解释

24、行车中轮胎突然爆裂时的应急措施是什么？



- A、迅速制动减速
- B、紧握转向盘,尽快平稳停车
- C、迅速转动转向盘调整方向
- D、低速行驶,寻找换轮胎地点

您的答案：**B** ✓ 本题解释

25、在交叉路口有优先通行权的机动车，遇有其他机动车抢行时怎么办？

- 
- A、抢行通过
- B、提前加速通过
- C、按优先权规定正常行驶不予避让
- D、减速避让,必要时停车让行
- 

您的答案：D✓ 本题解释

26、如图标志的含义是什么？

- 
- A、下陡坡
- B、滑行
- C、下行
- D、上陡坡
- 



您的答案：A✓ 本题解释

27、夜间行车中，前方出现弯道时，灯光照射如何变化？

- 
- A、距离不变
- B、由高变低
- C、离开路面
- D、由路中移到路侧
- 

您的答案：D✓ 本题解释

28、驾驶机动车在这种山区弯道怎样转弯最安全？

- A、靠弯道外侧行驶
- B、减速、鸣号、靠右行
- C、借用对向车道行驶
- D、靠道路中心行驶



您的答案：**B** ✓ 本题解释

29、如图标志的含义是什么？

- A、路面不平
- B、驼峰桥
- C、隧道
- D、堤坝路



您的答案：**B** ✗ 正确答案：**A** 本题解释

30、发现前方道路堵塞，正确的做法是什么？

- A、继续穿插绕行
- B、选择空当逐车超越
- C、鸣喇叭示意前方车辆快速行驶
- D、按顺序停车等候

您的答案：**D** ✓ 本题解释

31、如图标志的含义是什么？



- A、急弯路
- B、连续弯路
- C、曲线行驶
- D、禁止转弯



您的答案：**B** ✓ 本题解释

32、下列属于危险化学品易燃固体的是什么？



- A、火柴
- B、烟花
- C、电石
- D、炸药

您的答案：**D** ✗ 正确答案：**A** 本题解释

33、如图标志用于指示前方路口车辆怎样行驶的正确路线？



- A、掉头
- B、绕行
- C、转弯
- D、变道



您的答案：**B** ✓ 本题解释

34、机动车在雾天临时停车时，应开启什么灯？



- A、危险报警闪光灯、示廓灯和后位灯
- B、左转向灯、示廓灯和后位灯
- C、前大灯、示廓灯和后位灯
- D、倒车灯、示廓灯和后位灯





您的答案：**A**✓ 本题解释

35、驾驶机动车怎样安全通过铁路道口？

- A、换空挡利用惯性通过
- B、进入道口后换低速挡
- C、进入道口前减速减挡
- D、道口内停车左右观察



您的答案：**C**✓ 本题解释

36、在同向3车道高速公路上行驶，最右侧车道的最低车速为多少？



- A、40 公里每小时
- B、60 公里每小时
- C、80 公里每小时
- D、100 公里每小时



您的答案：**B**✓ 本题解释

37、驾驶机动车在这种情况下注意什么？

- A、行人从车后穿出
- B、行人从车前穿出
- C、公交车突然倒车
- D、公交车突然起步



您的答案：**D**✘ 正确答案：**B** 本题解释

38、如图标志的含义是什么？

- A、向右行驶
- B、绕行
- C、向左急弯路
- D、向右急弯路



您的答案：**C**✔ 本题解释

39、如图标志的含义是什么？

- A、左侧通行
- B、右侧通行
- C、两侧通行
- D、禁止通行



您的答案：**D**✘ 正确答案：**A** 本题解释

40、驾驶机动车变更车道时，属于交通陋习的是什么行为？

- A、提前开启转向灯
- B、仔细观察后变更车道
- C、随意并线

D、不得妨碍其他车道正常行驶的车

您的答案: **C** ✓ 本题解释

41、如何驾驶机动车通过无交通信号的交叉路口?

- A、鸣喇叭,迅速通过。
- B、保持正常速度行驶。
- C、提前加速通过。
- D、提前减速,确认安全后通过。

您的答案: **D** ✓ 本题解释

42、机动车在高速公路发生故障需停车检查时,要在什么地方停车?

- A、最外侧行车道上
- B、内侧行车道上
- C、应急车道
- D、匝道口

您的答案: **C** ✓ 本题解释

43、山区上坡路段跟车过程中遇前车停车时怎么办?

- A、从前车两侧超越
- B、紧跟前车后停车
- C、保持大距离停车
- D、连续鸣喇叭提示



您的答案: **C** ✓ 本题解释

44、机动车在什么样的路面上制动时车轮最容易抱死?



- A、混凝土路
- B、土路
- C、冰雪路面
- D、沙土路



您的答案: **C** ✓ 本题解释

45、机动车因故障必须在高速公路上停车时，要采取的正确做法是什么



- A、在车后 150 米处设置故障警告标志
- B、在车后 100 米处设置故障警告标志
- C、夜间要开启示廓灯和后位灯
- D、要开启危险报警闪光灯



您的答案: **ACD** ✓ 本题解释

46、机动车行驶至转弯路段时，易引发事故的驾驶行为有什么?



- A、机动车占对向道行驶
- B、在弯道内急转转向盘
- C、在驶入弯道前不减速
- D、机动车靠路右侧行驶



您的答案：**ABC**✓ 本题解释

47、机动车高速行驶中出现转向失控时，驾驶人要如何处置？

- 
- A、紧急制动
- B、抢挂低速挡
- C、合理使用行车制动和驻车制动,避免紧急制动
- D、开启危险报警闪光灯
- 

您的答案：**BC**✗ 正确答案：**BCD** 本题解释

48、叶某驾驶中型厢式货车，行至陂头镇上汶线 3 公里加 600 米弯道路段时，以 40 公里/小时的速度与王某驾驶的乘载 19 人正三轮载货摩托车发生正面相撞，造成 10 人死亡、9 人受伤。双方驾驶人的主要违法行为是什么？

- 
- A、叶某驾驶与准驾车型不符的机动车
- B、王某驾驶摩托车非法载客
- C、叶某超速行驶
- D、王某不按信号灯指示行驶
- 

您的答案：**BC**✓ 本题解释

49、机动车发生侧滑时要如何调整方向？

- 
- A、前轮侧滑,向侧滑方向转动转向盘
- B、前轮侧滑,向侧滑相反方向转动转向盘
- C、后轮侧滑,向侧滑方向转动转向盘
- D、后轮侧滑,向侧滑相反方向转动转向盘
- 

您的答案：**AD**✗ 正确答案：**BC** 本题解释

50、机动车在夜间发生故障时，驾驶人要做什么以确保安全？

- A、选择安全区域停车
- B、开启危险报警闪光灯
- C、开启示廓灯和后位灯
- D、按规定设置警告标志

您的答案：**ABCD** ✓ 本题解释

驾校一点通安全文明常识模拟考试

总分 100 分（90 分过关）

2013 年新版安全文明题库！若觉得好用，请多帮忙宣传或转发！

1、白天驾驶机动车进入隧道后驾驶人眼睛有个明适应过程。

您的答案：没有答题❌ 正确答案：错 本题解释

2、夜间通过没有路灯或路灯照明不良的路口，要连续变换远、近光灯提示。

您的答案：没有答题❌ 正确答案：对 本题解释

3、在冰雪路面驾驶机动车要避免紧急制动。

您的答案：没有答题❌ 正确答案：对 本题解释

4、发生该事故的主要原因是驾驶人倒车前没有进行安全确认。



您的答案：没有答题❌ 正确答案：对 本题解释

5、遇机动车超越本车时，应加速行驶，不让其超越。

您的答案：没有答题❌ 正确答案：错 本题解释

6、高速公路安全距离确认路段用于确认车速在每小时 100 公里时的安全距离。



您的答案：没有答题❌ 正确答案：对 本题解释

7、机动车在山区道路跟车行驶时，要适当缩小安全距离。

您的答案：没有答题❌ 正确答案：错 本题解释

8、高速行驶的机动车，在转向失控的情况下使用紧急制动，不会造成翻车。

您的答案：没有答题❌ 正确答案：错 本题解释

9、在这个路口左转弯要靠路口中心点左侧转弯。



您的答案：没有答题❌ 正确答案：对 本题解释



10、机动车通过铁路道口时，不得超车。

您的答案：没有答题✘ 正确答案：对 本题解释

11、夜间驾驶机动车在照明条件良好的路段可以不使用灯光。

您的答案：没有答题✘ 正确答案：错 本题解释

12、制动时前车轮抱死会出现丧失转向能力的情况。

您的答案：没有答题✘ 正确答案：对 本题解释

13、制动时后车轮抱死可能会出侧滑甩尾的情况。

您的答案：没有答题✘ 正确答案：对 本题解释

14、机动车电器、汽油着火后可用水来熄灭。

您的答案：没有答题✘ 正确答案：错 本题解释

15、驾驶人在确认后方无来车的情况下，可以不开转向灯变更车道。

您的答案：没有答题✘ 正确答案：错 本题解释

16、驾驶人边驾车，边打手持电话是违法行为。

您的答案：没有答题✘ 正确答案：对 本题解释

17、驾驶机动车在居民小区遇到这种情况要连续鸣喇叭。



您的答案：没有答题✘ 正确答案：错 本题解释

18、冰雪路面处理情况不能使用紧急制动，但可采取急转向的方法躲避。

您的答案：没有答题✘ 正确答案：错 本题解释

19、紧急情况下避险始终要把人的生命安全放到第一位。

您的答案：没有答题✘ 正确答案：对 本题解释

20、驾驶机动车在雨天起步前要使用刮水器。

您的答案：没有答题✘ 正确答案：对 本题解释

21、在大雨天行车，为避免发生“水滑”而造成危险，要控制速度行驶。

您的答案：没有答题 **X** 正确答案：对 本题解释

22、如图是停车让行标志。



您的答案：没有答题 **X** 正确答案：错 本题解释

23、大雨天在高速公路行车时，怎样避免发生“水滑”现象？

- 
- A、安装防滑装置
- B、提高车速行驶
- C、降低车速行驶
- D、断续使用制动
- 

您的答案：没有答题 **X** 正确答案：C 本题解释

24、如图标志用于指示前方路口车辆怎样行驶的正确路线？

- 
- A、掉头
- B、绕行
- C、转弯
- D、变道
- 



您的答案：没有答题 **X** 正确答案：B 本题解释

25、轮胎气压过低时，高速行驶可能导致什么结果？

- A、气压不稳
- B、气压增高
- C、行驶阻力减小

D、爆胎

您的答案：没有答题 **X** 正确答案：D 本题解释

26、下坡路制动突然失效后，不可采用的办法是什么？

- A、将车辆向上坡道方向行驶
- B、用车身靠向路旁的岩石或树林碰擦
- C、利用道路边专设的避险车道停车
- D、拉紧驻车制动器操纵杆或越二级挡位减挡

您的答案：没有答题 **X** 正确答案：D 本题解释

27、进入左侧道路超车，无法保证与正常行驶前车的横向安全间距时，要如何处置？

- A、加速超越
- B、并行一段距离后再超越
- C、放弃超车
- D、谨慎超越

您的答案：没有答题 **X** 正确答案：C 本题解释

28、动画 5 中有几种违法行为。

- A、一种违法行为
- B、二种违法行为
- C、三种违法行为
- D、四种违法行为



您的答案：没有答题 **X** 正确答案：C 本题解释

29、驾驶机动车怎样经过公路跨线桥？

- A、加速行驶,尽快通过
- B、车速控制在 15 公里/小时以内
- C、按照标志限定速度行驶
- D、尽量靠桥中心行驶



您的答案：没有答题 **X** 正确答案：C 本题解释

30、火药、炸药和起爆药属于哪类危险化学品？

- A、氧化性物质
- B、易燃固体
- C、爆炸品
- D、自燃物品

您的答案：没有答题 **X** 正确答案：C 本题解释

31、如图标志的含义是什么？

- A、只准一切车辆直行和向左转弯
- B、车道行驶方向
- C、只准一切车辆直行和向右转弯
- D、只准一切车辆前方为右转路口





您的答案：没有答题 **X** 正确答案：**C** 本题解释

32、如图标志的含义是什么？



- A、过水路面
- B、注意溅水
- C、易滑
- D、驼峰桥



您的答案：没有答题 **X** 正确答案：**A** 本题解释

33、行驶途中要经常停车检查的“三漏现象”是指哪三漏？



- A、漏雨、漏电、漏油
- B、漏风、漏水、漏电、
- C、漏水、漏油、漏气
- D、漏气、漏电、漏油

您的答案：没有答题 **X** 正确答案：**C** 本题解释

34、动画 4 中有几种违法行为？



- A、一种违法行为
- B、二种违法行为
- C、三种违法行为
- D、四种违法行为



您的答案：没有答题❌ 正确答案：C 本题解释

35、如图标志的含义是什么？



- A、限制宽度
- B、限制高度
- C、限制质量
- D、限制轴重



您的答案：没有答题❌ 正确答案：D 本题解释

36、佟某驾驶一辆大客车(乘载 54 人，核载 55 人)行至太原境内以 45 公里的时速通过一处泥泞路段时，机动车侧滑驶出路外坠入深沟，导致 14 人死亡、40 人受伤。佟某的主要违法行为是什么？



- A、客车超员
- B、超速行驶
- C、酒后驾驶
- D、疲劳驾驶

您的答案：没有答题❌ 正确答案：B 本题解释

37、何某驾驶一辆乘载 53 人的大客车(核载 47 人)，行至宁合高速公路南京境内 454 公里加 100 米处，被一辆重型半挂牵引车追尾，导致大客车翻出路侧护栏并起火燃烧，造成 17 人死亡、27 人受伤。何某的主要违法行为是什么？



- A、超速行驶
- B、客车超员
- C、驾驶逾期未年检机动车
- D、操作不当

您的答案：没有答题 **X** 正确答案：**B** 本题解释

38、驾驶机动车在冰雪路面怎样安全超车？

- 
- A、开启前照灯
- B、连续鸣喇叭
- C、增大横向间距
- D、加速尽快超越
- 

您的答案：没有答题 **X** 正确答案：**C** 本题解释

39、动画 7 中有几种违法行为？

- 
- A、一种违法行为
- B、二种违法行为
- C、三种违法行为
- D、四种违法行为
- 



您的答案：没有答题 **X** 正确答案：**B** 本题解释

40、驾驶机动车在这种情况下怎样汇入主路车流？

- A、加速直接汇入车流
- B、从主路内红色车后汇入车流
- C、从主路内红色车前汇入车流
- D、开启转





向灯直接  
汇入车流

您的答案：没有答题 **X** 正确答案：**B** 本题解释

41、动画 8 中有几种违法行为？

- 
- 
- 
- 
- 

- A、一种违法行为
- B、二种违法行为
- C、三种违法行为
- D、四种违法行为



您的答案：没有答题 **X** 正确答案：**C** 本题解释

42、如图标志的含义是什么？

- 
- 
- 
- 
- 

- A、桥面变宽
- B、两侧变宽
- C、窄桥
- D、驼峰桥



您的答案：没有答题 **X** 正确答案：**C** 本题解释

43、救助全身燃烧伤员采取哪种应急措施？

- 
- 
- 
- 
- 

- A、用沙土覆盖火焰灭火
- B、向身上喷冷水灭火
- C、用灭火器进行灭火
- D、帮助脱掉燃烧的衣服

您的答案：没有答题 **X** 正确答案：**B** 本题解释

44、包扎止血不能用的物品是什么？

- 
- A、绷带
- B、三角巾
- C、止血带
- D、麻绳
- 

您的答案：没有答题 **X** 正确答案：**D** 本题解释

45、机动车行驶至转弯路段时，易引发事故的驾驶行为有什么？

- 
- A、机动车占对向道行驶
- B、在弯道内急转转向盘
- C、在驶入弯道前不减速
- D、机动车靠路右侧行驶
- 

您的答案：没有答题 **X** 正确答案：**ABC** 本题解释

46、驾驶机动车遇有漫水路时，要采取的正确做法是什么？

- 
- A、停车察明水情
- B、确认安全后,低速通过
- C、机动车涉水后,间断轻踏制动踏板
- D、机动车涉水后,持续轻踏制动踏板
- 

您的答案：没有答题 **X** 正确答案：**ABC** 本题解释

47、钱某驾驶大型卧铺客车，乘载 45 人(核载 40 人)，保持 40 公里/小时以上的车速行至八宿县境内连续下坡急转弯路段处，翻下 100 米深的山崖，造成 17 人死亡、20 人受伤。钱某的主要违法行为是什么？

- 
- A、驾驶时接听手持电话
- B、超速行驶
- C、客车超员
- D、疲劳驾驶
- 

您的答案：没有答题❌ 正确答案：BC 本题解释

48、如图所示，此车在行驶中，驾驶人要采取的措施是什么？

- A、控制车速,避免紧急制动
- B、尽量循前车的车辙走
- C、避免急转方向
- D、紧跟前车
- 



您的答案：没有答题❌ 正确答案：ABC 本题解释

49、下坡路行驶，制动突然失效后，可采用的减速方法是什么？

- 
- A、利用道路边专设避险车道停车
- B、用车身靠向路旁的岩石或树木碰擦
- C、首先拉紧驻车制动
- D、抢挂低速档
- 

您的答案：没有答题❌ 正确答案：ABD 本题解释

50、机动车在高速公路上行驶，遇有雾、雨、雪且能见度在 100 米至 200 米之间时，应该怎么做？



- A、开启雾灯、近光灯、示廓灯、前后位灯
- B、车速不超过 60km/h
- C、与同车道前车保持 100 米以上的距离
- D、从最近的出口尽快驶离高速公路



您的答案：没有答题 **✘** 正确答案：**ABC** 本题解释

驾校一点通安全文明常识模拟考试

总分 100 分（90 分过关）

2013 年新版安全文明题库！若觉得好用，请多帮忙宣传或转发！

- 1、驾驶机动车在交叉路口遇到这种情况可以不让行。



您的答案：没有答题✘ 正确答案：错 本题解释

- 2、雨天超车要开启前照灯，连续鸣喇叭迅速超越。

您的答案：没有答题✘ 正确答案：错 本题解释

- 3、如图是易滑标志。




您的答案：没有答题✘ 正确答案：对 本题解释

- 4、驾驶人边驾车，边打手持电话是违法行为。

您的答案：没有答题✘ 正确答案：对 本题解释

5、驾驶机动车在这种隧道内要尽量靠左侧行驶。



您的答案：没有答题✘ 正确答案：错 本题解释

6、伤员骨折处出血时，要先固定，然后止血和包扎伤口。

您的答案：没有答题✘ 正确答案：错 本题解释

7、如图是靠右侧道路行驶标志。



您的答案：没有答题✘ 正确答案：错 本题解释

8、驾驶人发现轮胎漏气时，应迅速制动减速，将车辆尽快驶离行车道，停放在路边安全地点。

您的答案：没有答题✘ 正确答案：错 本题解释

9、在这个区域内不允许长时间停放机动车。



您的答案：没有答题❌ 正确答案：对 本题解释

10、救助失血过多出现休克的伤员要采取保暖措施

您的答案：没有答题❌ 正确答案：对 本题解释

11、在大雨天行车，为避免发生“水滑”而造成危险，要控制速度行驶。

您的答案：没有答题❌ 正确答案：对 本题解释

12、机动车在上坡途中可以掉头。

您的答案：没有答题❌ 正确答案：错 本题解释

13、行车途中发动机突然熄火，不能继续启动时要采取紧急制动措施，迫使机动车迅速停住。

您的答案：没有答题❌ 正确答案：错 本题解释

14、如图是慢行标志。



您的答案：没有答题❌ 正确答案：对 本题解释

15、机动车可以在单行路段选择倒车。

您的答案：没有答题❌ 正确答案：错 本题解释

16、车辆行驶中(特别在高速公路上)一侧发生爆胎时，转向盘随之以极大的力量自行向另一侧急转。

您的答案：没有答题❌ 正确答案：错 本题解释

17、行车中对出现这种行为的人不能礼让。



您的答案：没有答题❌ 正确答案：错 本题解释

18、驾驶机动车可在该路口处向右变更车道。



您的答案：没有答题❌ 正确答案：错 本题解释

19、驾驶大型机动车在高速公路上遇到限速标志低于规定车速时，按规定车速行驶。

您的答案：没有答题❌ 正确答案：错 本题解释



20、如图是机动车车道标志。



您的答案：没有答题 **X** 正确答案：对 本题解释

21、车辆转向突然失控时，应立即用力踏下制动踏板，使车辆尽快减速停止。

您的答案：没有答题 **X** 正确答案：错 本题解释

22、驾驶机动车在高速公路意外碰撞护栏时要迅速向相反方向转向修正。

您的答案：没有答题 **X** 正确答案：错 本题解释

23、驾驶机动车遇到浓雾或特大雾等能见度过低天气时如何做？

- 
- 
- 
- 
- 

- A、开启前照灯低速行驶
- B、开启雾灯低速行驶
- C、选择安全地点停车
- D、紧靠路边低速行驶

您的答案：没有答题 **X** 正确答案：C 本题解释

24、在高速公路行车选择什么地方停车？

- 
- 
- 
- 

- A、服务区
- B、加速车道
- C、减速车道
- D、匝道

您的答案：没有答题  正确答案：A 本题解释

25、某日早上 6 时，冉某驾驶一辆大客车出发，连续行驶至上午 11 时，在宣汉县境内宣南路 1 公里处，坠于公路一侧垂直高度 8.5 米的陡坎下，造成 13 人死亡、9 人受伤。冉某的主要违法行为是什么？

- 
- A、超速行驶
- B、不按交通标线行驶
- C、客车超员
- D、疲劳驾驶

您的答案：没有答题  正确答案：D 本题解释

26、抢救骨折伤员时注意什么？

- 
- A、迅速抬上担架送往医院
- B、适当调整损伤时的姿势
- C、用绷带对骨折部位进行包扎
- D、不要移动身体骨折部位

您的答案：没有答题  正确答案：D 本题解释

27、行车中遇交通事故受伤者需要抢救时怎么办？

- 
- A、及时将伤者送医院抢救或拨打急救电话
- B、尽量避开,少惹麻烦
- C、绕过现场行驶
- D、借故避开现场

您的答案：没有答题 **X** 正确答案：**A** 本题解释

28、在没有道路中心线的道路上，前车遇后车发出超车信号时，要如何处置？

- A、保持原有状态行驶
- B、加速行驶
- C、迅速停车让行
- D、在条件许可的情况下,降低速度、靠右让路

您的答案：没有答题 **X** 正确答案：**D** 本题解释

29、驾驶机动车遇到这种情况怎样做最安全？

- A、尽快加速超越前车
- B、主动减速放弃超车
- C、鸣喇叭让前车让路
- D、开前照灯让对方让速



您的答案：没有答题 **X** 正确答案：**B** 本题解释

30、如图标志的含义是什么？

- A、顺序行驶
- B、反向弯路
- C、环形交叉路口
- D、绕行





您的答案：没有答题❌ 正确答案：C 本题解释

31、郝某驾驶一辆载有 84.84 吨货物的重型自卸货车(核载 15.58 吨)，行至滦县境内 262 省道 34 公里加 623 米处，与前方同向行驶的一辆载有 45.85 吨货物的货车(核载 1.71 吨)追尾碰撞后，侧翻撞向路边人群，造成 19 人死亡、17 人受伤。双方驾驶人共同的违法行为是什么？



- A、超速行驶
- B、货车超载
- C、疲劳驾驶
- D、酒后驾车

您的答案：没有答题❌ 正确答案：B 本题解释

32、驾驶机动车遇到这种情况怎样行驶？



- A、减速让非机动车先行
- B、连续鸣喇叭告知让道
- C、从非机动车左侧绕过
- D、占对向车道加速超越



您的答案：没有答题❌ 正确答案：A 本题解释

33、当机动车转向失控行驶方向偏离，事故已经无可避免时，要采取什么措施？。

- 
- A、紧急制动
- B、迅速转向进行调整
- C、迅速向无障碍一侧转向躲避
- D、迅速向有障碍一侧转向躲避
- 

您的答案：没有答题 **X** 正确答案：A 本题解释

34、冰雪道路对行车安全的主要影响是什么？

- 
- A、容易发生故障
- B、能见度降低
- C、行驶阻力增大
- D、制动性能变差
- 

您的答案：没有答题 **X** 正确答案：D 本题解释

35、驾驶机动车遇到这种情况怎样行驶？

- A、加速从左侧超越
- B、连续鸣喇叭告知
- C、紧跟在自行车后
- D、减速避让自行车



您的答案：没有答题 **X** 正确答案：D 本题解释

36、如图标志的含义是什么？

- A、注意儿童
- B、人行横道
- C、学校



D、村庄

您的答案：没有答题 **X** 正确答案：A 本题解释

37、动画 8 中有几种违法行为？

A、一种违法行为

B、二种违法行为

C、三种违法行为

D、四种违法行为



您的答案：没有答题 **X** 正确答案：C 本题解释

38、在这种条件的道路上怎样安全行驶？

A、靠路右侧转小弯

B、靠弯路中心转弯

C、借对向车道转弯

D、靠路右侧转大弯



您的答案：没有答题 **X** 正确答案：D 本题解释

39、动画 5 中有几种违法行为。

A、一种违法行为

B、二种违法行为

C、三种违法行为

D、四种违法行为





您的答案：没有答题 **X** 正确答案：**C** 本题解释

40、如何驾驶机动车通过无交通信号的交叉路口？



- A、鸣喇叭,迅速通过。
- B、保持正常速度行驶。
- C、提前加速通过。
- D、提前减速,确认安全后通过。



您的答案：没有答题 **X** 正确答案：**D** 本题解释

41、如图所示白色菱形图案的含义是什么？



- A、减速让行线
- B、人行横道预告标示
- C、减速让行线
- D、禁驶区标线



您的答案：没有答题 **X** 正确答案：**B** 本题解释

42、驾驶机动车在山区道路怎样超车？



- A、选择较缓的下坡路段超车
- B、选择任意路段超车
- C、选择宽阔缓上坡路段超车
- D、选择较长下坡路段超车



您的答案：没有答题 **X** 正确答案：C 本题解释

43、驾驶机动车在这种山区弯路怎样行驶？

- A、占对向车道行驶
- B、靠右侧减速行驶
- C、在道路中心行驶
- D、紧靠路右侧行驶



您的答案：没有答题 **X** 正确答案：B 本题解释

44、图中警察手势为什么信号？

- A、左转弯
- B、停止
- C、右转弯
- D、示意车辆靠边停车



您的答案：没有答题 **X** 正确答案：B 本题解释

45、钱某驾驶大型卧铺客车，乘载45人(核载40人)，保持40公里/小时以上的车速行至八宿县境内连续下坡急转弯路段处，翻下100米深的山崖，造成17人死亡、20人受伤。钱某的主要违法行为是什么？

- A、驾驶时接听手持电话
- B、超速行驶
- C、客车超员
- D、疲劳驾驶



您的答案：没有答题 **X** 正确答案：**BC** 本题解释

46、陶某驾驶中型客车(乘载 33 人)，行至许平南高速公路 163 公里处时，以 120 公里/小时的速度与停在最内侧车道上安某驾驶的因事故无法移动的小客车(未设置警示标志)相撞，中型客车撞开右侧护栏侧翻，造成 16 死亡、15 人受伤。双方驾驶人的主要违法行为是什么？

- 
- A、陶某客车超员
- B、陶某超速行驶
- C、安某未按规定设置警示标志
- D、安某违法停车
- 

您的答案：没有答题 **X** 正确答案：**ABC** 本题解释

47、与对向来车发生正面碰撞且碰撞位置在驾驶人正前方时，驾驶人正确的要急驾驶姿势是什么？

- 
- A、迅速躲离转向盘
- B、往副驾驶座位躲避
- C、迅速将两腿抬起
- D、两腿蹬直
- 

您的答案：没有答题 **X** 正确答案：**ABC** 本题解释

48、在山区道路行驶时，驾驶人要注意什么？

- 
- A、保持与前车的安全距离
- B、避免转弯时占道行驶
- C、上陡坡提前换低速挡
- D、下长坡时,充分利用发动机制动
- 

您的答案：没有答题 **X** 正确答案：**ABCD** 本题解释

49、机动车行驶至转弯路段时，易引发事故的驾驶行为有什么？

- 
- A、机动车占对向道行驶
- B、在弯道内急转转向盘
- C、在驶入弯道前不减速
- D、机动车靠路右侧行驶
- 

您的答案：没有答题 **✘** 正确答案：**ABC** 本题解释

50、机动车在夜间发生故障时，驾驶人要做什么以确保安全？

- 
- A、选择安全区域停车
- B、开启危险报警闪光灯
- C、开启示廓灯和后位灯
- D、按规定设置警告标志
- 

您的答案：没有答题 **✘** 正确答案：**ABCD** 本题解释

驾校一点通安全文明常识模拟考试

总分 100 分（90 分过关）

2013 年新版安全文明题库！若觉得好用，请多帮忙宣传或转发！

1、如图是双向弯路标志。



您的答案：没有答题 **✘** 正确答案：错 本题解释

2、机动车在高速公路上行车，如果因疏忽驶过出口，可沿路肩倒车退回出口处。

您的答案：没有答题 **✘** 正确答案：错 本题解释

3、夜间汽灯光照射距离由近变远，表明机动车可能已进入下坡道。

您的答案：没有答题 **✘** 正确答案：对 本题解释

4、雨天避免“水滑”现象的有效方法就是保持高速行驶。

您的答案：没有答题 **✘** 正确答案：错 本题解释

5、驾驶机动车遇到左侧来风时可适当向左调整方向。

您的答案：没有答题 **✘** 正确答案：错 本题解释

6、机动车下长坡时使用缓速器可以避免使用行车制动造成的磨损和发热。

您的答案：没有答题❌ 正确答案：对 本题解释

7、如图是右侧绕行标志。



您的答案：没有答题❌ 正确答案：对 本题解释

8、驾驶机动车遇到这样的情况要提前减速或停车让行。



您的答案：没有答题❌ 正确答案：对 本题解释

9、行车中不开转向灯强行并线是违法行为。

您的答案：没有答题❌ 正确答案：对 本题解释

10、驾驶机动车在山区道路行车，下陡坡时不能超车。

您的答案：没有答题❌ 正确答案：对 本题解释

11、客车遇险后，驾驶人要设法开启车门、安全门或紧急出口，迅速疏散车上乘客。

您的答案：没有答题❌ 正确答案：对 本题解释

12、如果遇到较强横风，感觉机动车产生横向偏移时，要握紧转向盘并紧急制动。

您的答案：没有答题✘ 正确答案：错 本题解释

13、驾驶人发现转向突然不灵，可低速将车开到附近修理厂修好后再行驶。

您的答案：没有答题✘ 正确答案：错 本题解释

14、驾驶机动车遇到这种道路要提前减挡，以保持充足动力。



您的答案：没有答题✘ 正确答案：对 本题解释

15、涉水驾驶要保持车速均匀有足够动力，避免停留。

您的答案：没有答题✘ 正确答案：对 本题解释

16、驾驶机动车在高速公路匝道上不准掉头。

您的答案：没有答题✘ 正确答案：对 本题解释

17、驾驶机动车在这种情况下要尽快加速通过。



您的答案：没有答题✘ 正确答案：错 本题解释

18、遇前方道路上有机动车掉头时，应在其停车换挡的过程中迅速超越。

您的答案：没有答题✘ 正确答案：错 本题解释


19、驾驶大型机动车在没有设置限速区间的高速公路上可以在左侧车道行驶。

您的答案：没有答题✘ 正确答案：错 本题解释

20、高速行驶的车辆，在转向失控的情况下使用紧急制动，很容易造成翻车。

您的答案：没有答题✘ 正确答案：对 本题解释

21、驾驶机动车不能通过这种情况的铁路道口。



您的答案：没有答题 **✘** 正确答案：对 本题解释

22、驾驶机动车进入左侧车道可以掉头。



您的答案：没有答题 **✘** 正确答案：对 本题解释

23、山区上坡路段跟车过程中遇前车停车时怎么办？

- 
- A、从前车两侧超越
- B、紧跟前车后停车
- C、保持大距离停车
- D、连续鸣喇叭提示
- 

您的答案：没有答题 **✘** 正确答案：C 本题解释

24、行车中发现右侧轮胎漏气时怎样处置？

- 
- A、迅速制动减速
- B、慢慢制动减速
- C、迅速向左转向
- D、采取紧急制动
- 

您的答案：没有答题 **✘** 正确答案：B 本题解释

25、驾驶机动车驶近前方主支干道交汇处要注意什么？

- A、提前减速,注意机动车
- B、保持正常速度行驶
- C、鸣喇叭,迅速通过
- D、提前加速,快速通过



您的答案：没有答题 **✘** 正确答案：A 本题解释

26、驾驶机动车上坡行驶如何保持充足动力？

- A、在车速下降前减挡
- B、在车速下降后减挡
- C、在车速过低时减挡
- D、尽量使用越级减挡

您的答案：没有答题 **✘** 正确答案：A 本题解释

27、夜间驾驶人对物体的观察明显比白天差，视距如何变化？

- A、变长
- B、变短
- C、不变
- D、无规律

您的答案：没有答题 **✘** 正确答案：B 本题解释



28、大客车倒车时遇到这种情况怎样做以保证安全？

- A、低速缓慢倒车
- B、主动停车避让
- C、连续鸣喇叭示意
- D、向右转向倒车



您的答案：没有答题 **X** 正确答案：B 本题解释

29、夜间驾驶机动车遇到这种情况怎样使用灯光？

- A、临近时关闭前照灯
- B、使用近光灯
- C、使用远光灯
- D、提前关闭所有灯光



您的答案：没有答题 **X** 正确答案：B 本题解释

30、驾驶机动车进入高速公路隧道前需要注意什么？

- A、开启远光灯行驶
- B、开启示宽灯、尾灯行驶
- C、开启近光灯行驶
- D、到达隧道口时鸣喇叭



您的答案：没有答题  正确答案：C 本题解释

31、如图标志的含义是什么？



- A、前方是避车道
- B、前方是右侧变宽
- C、前方是紧急停车带
- D、前方是靠右行驶



您的答案：没有答题  正确答案：A 本题解释

32、驾驶机动车怎样安全通过铁路道口？



- A、换空挡利用惯性通过
- B、进入道口后换低速挡
- C、进入道口前减速减挡
- D、道口内停车左右观察



您的答案：没有答题  正确答案：C 本题解释

33、超车时，发现前方机动车正在超车，驾驶人怎么办？



- A、紧跟其后,伺机超越
- B、加速强行超越
- C、连续鸣喇叭催前车让路
- D、停止超车,让前方机动车先超车

您的答案：没有答题 **X** 正确答案：D 本题解释

34、上坡路段停车怎样使用行车制动？

- 
- A、比在平路时提前
- B、比在平路时推迟
- C、和平路时一样
- D、要重踏制动踏板
- 

您的答案：没有答题 **X** 正确答案：B 本题解释

35、驾驶机动车看到这样的儿童怎样行驶？

- A、紧跟在后面行驶
- B、从左侧加速让过
- C、鸣喇叭示意让道
- D、减速或停车避让



您的答案：没有答题 **X** 正确答案：D 本题解释

36、机动车不慎落水，车门无法开启时，可选择的自救方法是什么？

- 
- A、敲碎侧窗玻璃
- B、关闭车窗
- C、打电话求救
- D、用工具撬开车门
- 

您的答案：没有答题 **X** 正确答案：A 本题解释

37、如动画所示，前车遇到这种情况要如何处置？

- 
- 
- 
- 
- 

- A、迅速减速或紧急制动
- B、让出适当空间加速行驶
- C、主动减速并示意后车超越
- D、靠道路右侧加速行驶



您的答案：没有答题 **X** 正确答案：C 本题解释

38、驾驶机动车在有导向车道的交叉路口怎样变更车道？

- 
- 
- 
- 
- 

- A、接近路口时变更车道
- B、在实线区变更车道
- C、在虚线区变更车道
- D、根据需要变更车道

您的答案：没有答题 **X** 正确答案：C 本题解释

39、机动车在什么样的路面上制动时车轮最容易抱死？

- 
- 
- 
- 
- 

- A、混凝土路
- B、土路
- C、冰雪路面
- D、沙土路

您的答案：没有答题 **X** 正确答案：C 本题解释

40、驾驶人在行车中经过积水路面时，要怎样做以保证安全？

- 
- 
- 
- 

- A、特别注意减速慢行
- B、迅速加速通过
- C、保持正常车速通过
- D、低档加速通过



您的答案：没有答题 **X** 正确答案：**A** 本题解释

41、如图标志的含义是什么？



- A、预告前方是道路管理分界
- B、预告前方是交叉路口
- C、预告前方是分岔处
- D、预告前方是互通式立交



您的答案：没有答题 **X** 正确答案：**D** 本题解释

42、图中交通警察的手势为什么信号？



- A、示意车辆靠边停车
- B、左转弯待转
- C、左转弯
- D、右转弯



您的答案：没有答题 **X** 正确答案：**C** 本题解释

43、行车中轮胎突然爆裂时的应急措施是什么？



- A、迅速制动减速
- B、紧握转向盘,尽快平稳停车
- C、迅速转动转向盘调整方向
- D、低速行驶,寻找换轮胎地点

您的答案：没有答题 **X** 正确答案：**B** 本题解释

44、转向失控后，若车辆偏离直线行驶方向，应怎样使车辆尽快减速停车？



- A、轻踏制动踏板
- B、拉紧驻车制动器操纵杆
- C、迅速抢挡减速
- D、果断地连续踩踏、放松制动踏板

您的答案：没有答题 **X** 正确答案：**D** 本题解释

45、为确保机动车在高速公路行驶的安全，不得有下列哪些行为？



- A、倒车逆行,穿越中央分隔带掉头,或在车道内停车
- B、骑轧车行道分界线或者在路肩上行驶
- C、在匝道、加速车道或者在减速车道上超车
- D、试车或者学习驾驶机动车

您的答案：没有答题 **X** 正确答案：**ABCD** 本题解释

46、机动车避免爆胎的正确做法是什么？



- A、降低轮胎气压
- B、定期检查轮胎
- C、及时清理轮胎沟槽内的异物
- D、更换有裂纹或损伤的轮胎

您的答案：没有答题 **X** 正确答案：**BCD** 本题解释

47、林某驾车以 110 公里/小时的速度在城市道路行驶，与一辆机动车追尾后弃车逃离被群众拦下。经鉴定，事发时林某血液中的酒精浓度为 135.8 毫克/百毫升。林某的主要违法行为是什么？

- 
- A、醉酒驾驶
- B、超速驾驶
- C、疲劳驾驶
- D、肇事逃逸
- 

您的答案：没有答题❌ 正确答案：ABD 本题解释

48、机动车行驶时突然发生自燃，驾驶人采取的以下紧急避险措施中，正确做法是什么？

- 
- A、用清水喷洒扑灭
- B、及时报警
- C、使用车内备用的灭火器灭火
- D、在来车方向设置警告标志
- 

您的答案：没有答题❌ 正确答案：BCD 本题解释

49、唐某驾驶一辆大客车，乘载 74 人(核载 30 人)，以每小时 38 公里的速度，行至一连续下坡陡坡转弯路段时，机动车翻入路侧溪水内，造成 17 人死亡、57 人受伤。唐某的主要违法行为是什么？

- 
- A、酒后驾驶
- B、客车超员
- C、疲劳驾驶
- D、超速行驶
- 

您的答案：没有答题❌ 正确答案：BD 本题解释

50、杨某驾驶改装小型客车(核载9人，实载64人，其中62人为幼儿园学生)，行至榆林子镇马槽沟村处，占用对向车道逆行时与一辆重型自卸货车正面碰撞，造成22人死亡、44人受伤。该起事故中的主要违法行为是什么？

- A、货车超速行驶
- B、非法改装机动车
- C、客车超员
- D、客车逆向行驶

您的答案：没有答题 ✘ 正确答案：BCD 本题解释



驾校一点通安全文明常识模拟考试

总分 100 分（90 分过关）

2013 年新版安全文明题库！若觉得好用，请多帮忙宣传或转发！

1、行车途中发动机突然熄火，不能继续启动时要采取紧急制动措施，迫使机动车迅速停住。

您的答案：没有答题 **✘** 正确答案：错 本题解释

2、驾驶机动车在山区道路行车，下陡坡时不能超车。

您的答案：没有答题 **✘** 正确答案：对 本题解释

3、在高速公路停车休息时，要选择应急车道或路肩等安全的地方。

您的答案：没有答题 **✘** 正确答案：错 本题解释

4、如图是禁止直行和向右转弯标志。



您的答案：没有答题 **✘** 正确答案：对 本题解释

5、会车遇到这种情况要低速会车或停车让行。



您的答案：没有答题❌ 正确答案：对 本题解释

6、大风天气行车中，如果遇到狂风袭来，感觉机动车产生横向偏移时，要急转方向以恢复行驶方向。

您的答案：没有答题❌ 正确答案：错 本题解释

7、在道路上跟车行驶时，跟车距离不是主要的，只须保持与前车相等的速度，即可防止发生追尾事故。

您的答案：没有答题❌ 正确答案：错 本题解释

8、机动车行至泥泞或翻浆路段时，要停车观察，选择平整、坚实或有车辙的路段通过。

您的答案：没有答题❌ 正确答案：对 本题解释

9、图中警察手势为示意车辆靠边停车信号。



您的答案：没有答题❌ 正确答案：错 本题解释

10、造成这起事故的主要原因是行人从车前横穿。



您的答案：没有答题❌ 正确答案：错 本题解释

11、驾驶机动车在居民小区遇到这种情况要紧跟其后行驶。



您的答案：没有答题❌ 正确答案：错 本题解释

12、雨天避免“水滑”现象的有效方法就是保持高速行驶。

您的答案：没有答题❌ 正确答案：错 本题解释

13、驾驶大型机动车在高速公路上遇到因事故造成的堵塞时，可以借右侧路肩行驶。

您的答案：没有答题❌ 正确答案：错 本题解释

14、行车中遇老年人在道路上行走影响通行时，可连续鸣喇叭催其让道。

您的答案：没有答题 **✘** 正确答案：错 本题解释

15、如图标志的含义是确定主标志规定区间距离为左侧 100 米内的路段。



您的答案：没有答题 **✘** 正确答案：对 本题解释

16、机动车涉水后，驾驶人要间断轻踩制动踏板，以恢复制动效能。

您的答案：没有答题 **✘** 正确答案：对 本题解释

17、对无骨端外露的骨折伤员肢体固定时，要超过伤口上下关节。

您的答案：没有答题 **✘** 正确答案：对 本题解释

18、如图是易滑标志。



您的答案：没有答题 **✘** 正确答案：对 本题解释

19、下坡路制动失效后，若无可利用的地形和时机，应迅速逐级或越一级减挡，利用发动机制动作用控制车速。

您的答案：没有答题 **✘** 正确答案：对 本题解释

20、驾驶机动车遇到成群的青少年骑自行车时，可连续鸣喇叭迅速超越。

您的答案：没有答题 **X** 正确答案：错 本题解释

21、未安装制动防抱死装置(ABS)的车辆，驾驶人发现汽车偏离方向时，应立即松开制动踏板，待方向得到控制后再踏制动踏板。

您的答案：没有答题 **X** 正确答案：对 本题解释

22、驾驶机动车向右变更车道前开启右转向灯。

您的答案：没有答题 **X** 正确答案：对 本题解释

23、动画 4 中有几种违法行为？

- 
- 
- 
- 
- 

- A、一种违法行为
- B、二种违法行为
- C、三种违法行为
- D、四种违法行为



您的答案：没有答题 **X** 正确答案：C 本题解释

24、大雨天在高速公路行车时，怎样避免发生“水滑”现象？

- 
- 
- 
- 
- 

- A、安装防滑装置
- B、提高车速行驶
- C、降低车速行驶
- D、断续使用制动

您的答案：没有答题 **X** 正确答案： **C** 本题解释

25、驾驶装有 ABS 系统的机动车怎样采取紧急制动？



- A、用力踏制动踏板
- B、间歇踏制动踏板
- C、缓慢踏制动踏板
- D、逐渐踏下制动踏板

您的答案：没有答题 **X** 正确答案： **A** 本题解释

26、如图标志的含义是什么？



- A、限制质量
- B、道路标号
- C、限制速度
- D、解除限制速度



您的答案：没有答题 **X** 正确答案： **D** 本题解释

27、如图标志的含义是什么？



- A、机动车行驶车道
- B、小客车单向通行车道
- C、试车专用车道
- D、小客车专用车道



您的答案：没有答题 **X** 正确答案： **A** 本题解释

28、如图标志的含义是什么？



- A、前方事故
- B、禁行
- C、停车
- D、注意危险



您的答案：没有答题 **X** 正确答案：D 本题解释

29、驾驶机动车直行通过前方路口怎样行驶？



- A、接近路口时减速慢行
- B、进入路口后再减速慢行
- C、可以不减速直接通过
- D、提前加速通过交叉路口



您的答案：没有答题 **X** 正确答案：A 本题解释

30、如图标志表示该车道是什么车道？



- A、直行和左转弯车道
- B、转弯直行车道
- C、分向行驶车道
- D、直行和右转弯车道



您的答案：没有答题 **X** 正确答案：C 本题解释

31、如图标志的含义是什么？

- 
- A、向右行驶
- B、绕行
- C、向左急弯路
- D、向右急弯路
- 



您的答案：没有答题 **X** 正确答案： **C** 本题解释

32、驾驶机动车超车时遇到这样的情况怎样保证安全？

- A、减速保持安全距离
- B、连续鸣喇叭提示
- C、保持距离加速通过
- D、占用对向车道超越



您的答案：没有答题 **X** 正确答案： **A** 本题解释

33、机动车在高速公路上超车，车速为每小时 100 公里时，最小横向间距应为多少？

- 
- A、0.8 米
- B、1.0 米
- C、1.2 米
- D、1.5 米
- 

您的答案：没有答题 **X** 正确答案： **D** 本题解释



34、机动车驶入双向行驶隧道前，要如何使用灯光？



- A、开启危险报警闪光灯
- B、开启远光灯
- C、开启雾灯
- D、开启近光灯

您的答案：没有答题 **X** 正确答案：D 本题解释

35、在环形路口内行驶时，如果有机动车强行驶入怎么办？



- A、提高车速,抢道行驶
- B、保持正常车速行驶
- C、提高车速,不让其驶入
- D、减速避让

您的答案：没有答题 **X** 正确答案：D 本题解释

36、如图标志的含义是什么？



- A、禁止借道行驶
- B、禁止超车
- C、解除禁止超车
- D、准许超车



您的答案：没有答题 **X** 正确答案：B 本题解释

37、发动机着火，错误的做法是什么？



- A、迅速关闭发动机
- B、用沙土灭火
- C、开启发动机罩灭火
- D、用灭火器灭火



您的答案：没有答题 **X** 正确答案：C 本题解释

38、驾驶机动车在结冰的道路上怎样会车？



- A、两车临近时减速
- B、适当加速交会
- C、提前减速缓慢交会
- D、尽量靠近中线交会

您的答案：没有答题 **X** 正确答案：C 本题解释

39、在这种情况下驾驶人需要注意什么？



- A、左侧机动车
- B、右侧机动车
- C、后方机动车
- D、前方机动车



您的答案：没有答题 **X** 正确答案：A 本题解释

40、如图标志的含义是什么？



- A、只准一切车辆直行和向左转弯
- B、车道行驶方向
- C、只准一切车辆直行和向右转弯
- D、只准一切车辆前方为右转路口



您的答案：没有答题 **X** 正确答案：C 本题解释

41、如图标志的含义是什么？



- A、注意危险
- B、禁止小型汽车通行
- C、注意追尾
- D、事故易发路段



您的答案：没有答题 **X** 正确答案：D 本题解释

42、驾驶未安装制动防抱死装置(ABS)的机动车在冰雪路面怎样使用制动？



- A、轻踏或间歇踩踏制动踏板
- B、与其他路面一样踏制动踏板
- C、重踏制动踏板
- D、猛踏制动踏板

您的答案：没有答题 **X** 正确答案：A 本题解释

43、机动车在雪天临时停车时，应开启什么灯？



- A、前后防雾灯、示廓灯和后位灯
- B、倒车灯、示廓灯和后位灯
- C、前大灯、示廓灯和后位灯
- D、危险报警闪光灯、示廓灯和后位灯

您的答案：没有答题 **X** 正确答案：D 本题解释

44、在没有交通信号的交叉路口遇到车辆缓慢行驶时怎么办？



- A、借右侧道路超车
- B、从左侧超车
- C、依次交替通行
- D、穿插等候的车辆

您的答案：没有答题 **X** 正确答案：C 本题解释

45、邹某驾驶大型卧铺客车(核载 35 人，实载 47 人)，行至京港澳高速公路 938 公里时，因乘车人携带的大量危险化学品在车厢内突然发生爆燃，造成 41 人死亡，6 人受伤。此事故中的主要违法行为是什么？



- A、客车超员
- B、携带危险物品
- C、超速行驶
- D、不按规定停车

您的答案：没有答题 **X** 正确答案：AB 本题解释

46、与对向来车发生正面碰撞且碰撞位置在驾驶人正前方时，驾驶人正确的要急驾驶姿势是什么？



- A、迅速躲离转向盘
- B、往副驾驶座位躲避
- C、迅速将两腿抬起
- D、两腿蹬直

您的答案：没有答题 **X** 正确答案：ABC 本题解释

47、机动车在夜间发生故障时，驾驶人要做什么以确保安全？

- 
- A、选择安全区域停车
- B、开启危险报警闪光灯
- C、开启示廓灯和后位灯
- D、按规定设置警告标志
- 

您的答案：没有答题❌ 正确答案：ABCD 本题解释

48、某日 19 时，杨某驾驶大客车，乘载 57 人(核载 55 人)，连续行驶至次日凌晨 1 时，在金城江区境内 050 国道 3008 公里加 110 米处，因机动车左前胎爆裂，造成 12 人死亡、22 人受伤的特大交通事故。杨某的主要违法行为是什么？

- 
- A、疲劳驾驶
- B、客车超员
- C、超速行驶
- D、操作不当
- 

您的答案：没有答题❌ 正确答案：AB 本题解释

49、机动车在行驶中突遇制动失灵时，驾驶人要采取什么措施？

- 
- A、握稳方向
- B、使用驻车制动器减速
- C、抢挂低速挡减速
- D、开启危险报警闪光灯
- 

您的答案：没有答题❌ 正确答案：ABCD 本题解释

50、所有货车和挂车要在车身什么位置设置反光标识?

A、后部

B、前部

C、车身全部

D、侧面

您的答案：没有答题 **X** 正确答案：**AD** 本题解释

驾校一点通安全文明常识模拟考试

总分 100 分（90 分过关）

2013 年新版安全文明题库！若觉得好用，请多帮忙宣传或转发！

- 1、受伤者在车内无法自行下车时，可设法将其从车内移出，尽量避免二次受伤。

您的答案：没有答题✘ 正确答案：对 本题解释

- 2、在高速公路变更车道时，开启转向灯后迅速驶入需要变更的车道。

您的答案：没有答题✘ 正确答案：错 本题解释

- 3、行车中遇到盲人和其他行动不便的行人，应该减速慢行，必要时停车。

您的答案：没有答题✘ 正确答案：对 本题解释

- 4、会车遇到这种情况要低速会车或停车让行。



您的答案：没有答题✘ 正确答案：对 本题解释

- 5、机动车电器、汽油着火后可用水来熄灭。

您的答案：没有答题❌ 正确答案：错 本题解释

6、如动画所示，驾驶人的行为是否正确？



您的答案：没有答题❌ 正确答案：错 本题解释

7、驾驶机动车在这个路口右转弯可以不变更车道。



您的答案：没有答题❌ 正确答案：错 本题解释

8、机动车的专用备胎可作为正常轮胎长期使用。

您的答案：没有答题❌ 正确答案：错 本题解释

9、驾驶机动车遇到牲畜横穿抢道的情况，要及时鸣喇叭进行驱赶。

您的答案：没有答题❌ 正确答案：错 本题解释

10、大暴雨中高速行车不会发生“水滑”现象。

您的答案：没有答题❌ 正确答案：错 本题解释



11、如图是停车检查标志。



您的答案：没有答题✘ 正确答案：对 本题解释

12、在泥泞路段行车要牢牢握住转向盘加速通过。

您的答案：没有答题✘ 正确答案：错 本题解释

13、夜间在窄路、窄桥会车要使用远光灯。

您的答案：没有答题✘ 正确答案：错 本题解释

14、行车中，设有安全带装置的机动车，车内乘员要系好安全带。

您的答案：没有答题✘ 正确答案：对 本题解释

15、在雪天临时停车要开启前照灯和雾灯。

您的答案：没有答题✘ 正确答案：错 本题解释

16、机动车在高速公路意外撞击护栏时，有效的保护措施是向相反方向大幅度转向

您的答案：没有答题✘ 正确答案：错 本题解释

17、如图是机动车车道标志。



您的答案：没有答题✘ 正确答案：对 本题解释

18、机动车通过急转弯路段时，在机动车较少的情况下可以超车。

您的答案：没有答题✘ 正确答案：错 本题解释

19、如图是禁止车辆长期停放标志。



您的答案：没有答题✘ 正确答案：错 本题解释

20、安装防抱死制动装置(ABS)的机动车制动时，制动距离会大大缩短。

您的答案：没有答题✘ 正确答案：错 本题解释

21、如图是限制轴重标志。



您的答案：没有答题✘ 正确答案：错 本题解释

22、行车中当机动车突然爆胎时，驾驶人切忌慌乱中急踏制动踏板，尽量采用抢挂低速档的方法，利用发动机制动使机动车减速。

您的答案：没有答题✘ 正确答案：对 本题解释

23、驾驶机动车在山区道路怎样跟车行驶？



- A、紧随前车之后
- B、加大安全距离
- C、减小纵向间距
- D、尽快超越前车

您的答案：没有答题 **X** 正确答案： **B** 本题解释

24、驾驶机动车在冰雪路面怎样安全超车？



- A、开启前照灯
- B、连续鸣喇叭
- C、增大横向间距
- D、加速尽快超越

您的答案：没有答题 **X** 正确答案： **C** 本题解释

25、赵某(持有 A2 驾驶证)驾驶大型卧铺客车，行驶至叶城县境内 219 国道 226 公里加 215 米处转弯路段时，坠入道路一侧山沟，致 16 人死亡，26 人受伤。赵某的主要违法行为是什么？



- A、客车超员
- B、驾驶逾期未检验的机动车
- C、驾驶与准驾车型不符的机动车
- D、疲劳驾驶

您的答案：没有答题 **X** 正确答案： **C** 本题解释

26、郝某驾驶一辆载有 84.84 吨货物的重型自卸货车(核载 15.58 吨)，行至滦县境内 262 省道 34 公里加 623 米处，与前方同向行驶的一辆载有 45.85 吨货物的货车(核载 1.71 吨)追尾碰撞后，侧翻撞向路边人群，造成 19 人死亡、17 人受伤。双方驾驶人共同的违法行为是什么？

- 
- A、超速行驶
- B、货车超载
- C、疲劳驾驶
- D、酒后驾车
- 

您的答案：没有答题 **X** 正确答案：B 本题解释

27、驾驶机动车遇到这种情况怎样要对？

- A、连续鸣喇叭警告
- B、加速从前方绕过
- C、出现危险再减速
- D、主动减速让行



您的答案：没有答题 **X** 正确答案：D 本题解释

28、驾驶机动车在学校门口遇到这种情况怎样行驶？

- A、从列队前方绕过
- B、减速慢行通过
- C、及时停车让行
- D、从列队空隙穿过



您的答案：没有答题 **X** 正确答案：C 本题解释

29、如图标志的含义是什么？



- A、顺序行驶
- B、反向弯路
- C、环形交叉路口
- D、绕行



您的答案：没有答题 **X** 正确答案： **C** 本题解释

30、下坡路行车中制动突然失效怎样处置？



- A、可利用避险车道减速停车
- B、越二级挡位减挡
- C、挂倒挡迫使停车
- D、拉紧驻车制动器减速

您的答案：没有答题 **X** 正确答案： **A** 本题解释

31、动画 5 中有几种违法行为。



- A、一种违法行为
- B、二种违法行为
- C、三种违法行为
- D、四种违法行为



您的答案：没有答题 **X** 正确答案： **C** 本题解释

32、如图标志的含义是什么？



- A、限制质量
- B、道路标号
- C、限制速度



D、解除限制速度

您的答案：没有答题 **X** 正确答案：**C** 本题解释

**33、**在同向4车道高速公路上行车，车速高于每小时110公里的机动车应在哪条车道上行驶。

A、最左侧

B、第二条

C、第三条

D、最右侧

您的答案：没有答题 **X** 正确答案：**A** 本题解释

**34、**驾驶机动车在这种情况下注意什么？

A、行人从车后穿出

B、行人从车前穿出

C、公交车突然倒车

D、公交车突然起步



您的答案：没有答题 **X** 正确答案：**B** 本题解释

**35、**徐某驾驶一辆中型客车，乘载27人，行至四都镇前岭村壶南头路段，在上坡过程中，机动车发生后溜驶出路外坠入落差约80米的山崖，造成11人死亡、7人受伤。徐某的主要违法行为是什么？

A、疲劳驾驶

B、酒后驾驶

C、客车超员

D、超速行驶

您的答案：没有答题 **X** 正确答案：C 本题解释

36、图中交通警察的手势为什么信号？

- A、示意车辆靠边停车
- B、左转弯待转
- C、左转弯
- D、右转弯



您的答案：没有答题 **X** 正确答案：C 本题解释

37、驾驶人发现转向不灵活时，错误的做法是什么？

- A、应尽快减速停车
- B、在安全地点停车
- C、继续驾驶
- D、停车查明原因

您的答案：没有答题 **X** 正确答案：C 本题解释

38、机动车在高速公路行驶，以下哪种说法是正确的？

- A、可在应急车道停车上下人员
- B、可在紧急停车带停车装卸货物
- C、可在减速或加速车道上超车、停车
- D、非紧急情况时不得在应急车道行驶或者停车

您的答案：没有答题 **X** 正确答案：D 本题解释

39、机动车在什么样的路面上制动时车轮最容易抱死？

- 
- A、混凝土路
- B、土路
- C、冰雪路面
- D、沙土路

您的答案：没有答题 **X** 正确答案：C 本题解释

40、在这种情况下怎样会车最安全？

- A、靠中心线行驶
- B、开前照灯行驶
- C、向路右侧避让
- D、向车左侧避让



您的答案：没有答题 **X** 正确答案：C 本题解释

41、如图标志的含义是什么？

- 
- A、傍山险路
- B、注意行人
- C、注意儿童
- D、施工





您的答案：没有答题 **X** 正确答案：D 本题解释

42、如图标志的含义是什么？

- 
- 
- 
- 

- A、预告前方是道路管理分界
- B、预告前方是交叉路口
- C、预告前方是分岔处
- D、预告前方是互通式立交



您的答案：没有答题 **X** 正确答案：D 本题解释

43、高速公路上行车，如果因疏忽驶过出口且下一出口距离较远时怎样做？

- 
- 
- 
- 

- A、沿路肩倒车驶回
- B、继续向前行驶
- C、立即停车
- D、在原地掉头

您的答案：没有答题 **X** 正确答案：B 本题解释

44、机动车从匝道驶入高速公路，应当开启什么灯？

- 
- 
- 
- 

- A、左转向灯
- B、右转向灯
- C、危险报警闪光灯
- D、前照灯

您的答案：没有答题 **X** 正确答案：A 本题解释

45、驾驶机动车遇有漫水路时，要采取的正确做法是什么？

- 
- A、停车察明水情
- B、确认安全后,低速通过
- C、机动车涉水后,间断轻踏制动踏板
- D、机动车涉水后,持续轻踏制动踏板
- 

您的答案：没有答题 **✘** 正确答案：**ABC** 本题解释

46、机动车避免爆胎的正确做法是什么？

- 
- A、降低轮胎气压
- B、定期检查轮胎
- C、及时清理轮胎沟槽内的异物
- D、更换有裂纹或损伤的轮胎
- 

您的答案：没有答题 **✘** 正确答案：**BCD** 本题解释

47、所有货车和挂车要在车身什么位置设置反光标识？

- 
- A、后部
- B、前部
- C、车身全部
- D、侧面
- 

您的答案：没有答题 **✘** 正确答案：**AD** 本题解释

48、为确保机动车在高速公路行驶的安全，不得有下列哪些行为？

- A、倒车逆行,穿越中央分隔带掉头,或在车道内停车
- B、骑轧车行道分界线或者在路肩上行驶
- C、在匝道、加速车道或者在减速车道上超车
- D、试车或者学习驾驶机动车

您的答案：没有答题❌ 正确答案：**ABCD** 本题解释

49、彭某驾驶一辆重型半挂牵引车，载运 37.7 吨货物(核载 25 吨)，行至大广高速公路一下坡路段，追尾碰撞一辆由李某驾驶在应急车道内行驶的重型自卸货车(货箱内装载 3.17 立方黄土并搭乘 24 人)，造成 16 人死亡、13 人受伤。此事故中的主要违法行为有？

- A、彭某超速行驶
- B、彭某超载
- C、李某在应急车道内行驶
- D、李某货车车厢内违法载人

您的答案：没有答题❌ 正确答案：**BCD** 本题解释

50、机动车高速行驶中出现转向失控时，驾驶人要如何处置？

- A、紧急制动
- B、抢挂低速挡
- C、合理使用行车制动和驻车制动,避免紧急制动
- D、开启危险报警闪光灯

您的答案：没有答题❌ 正确答案：**BCD** 本题解释

驾校一点通安全文明常识模拟考试

总分 100 分（90 分过关）

2013 年新版安全文明题库！若觉得好用，请多帮忙宣传或转发！

1、机动车在泥泞路紧急制动时，不会产生侧滑。

您的答案：没有答题 **✘** 正确答案：错 本题解释

2、如图所示斑马状导流线表示车辆应按规定的路线行驶，但可以压线或越线。




您的答案：没有答题 **✘** 正确答案：错 本题解释

3、因故障在山区下坡路段长时间停车时，要用这种办法塞住车轮。



您的答案：没有答题 **✘** 正确答案：对 本题解释

4、驾驶机动车在这个路口可以沿掉头车道直接掉头。



您的答案：没有答题 **✘** 正确答案：错 本题解释

5、使用已经有裂纹或损伤的轮胎行驶容易引起爆胎。

您的答案：没有答题 **✘** 正确答案：对 本题解释

6、夜间通过无交通信号控制的交叉路口，不得变换远、近光灯。

您的答案：没有答题 **✘** 正确答案：错 本题解释

7、超越进站停驶正在上下乘客的公交车时，一定要谨慎通过，防止盲区处有行人横过道路。

您的答案：没有答题 **✘** 正确答案：对 本题解释

8、驾驶人发现轮胎漏气时，应迅速制动减速，将车辆尽快驶离行车道，停放在路边安全地点。

您的答案：没有答题 **✘** 正确答案：错 本题解释

9、驾驶机动车在山区道路行车，下陡坡时不能超车。

您的答案：没有答题 **✘** 正确答案：对 本题解释

10、天气炎热，驾驶人可以赤背、光脚、穿拖鞋驾驶机动车。

您的答案：没有答题 **✘** 正确答案：错 本题解释

11、如图是机动车车道标志。



您的答案：没有答题✘ 正确答案：对 本题解释

12、如图是停车让行标志。



您的答案：没有答题✘ 正确答案：错 本题解释

13、驾驶有 ABS 系统的机动车在紧急制动的同时转向会发生侧滑。

您的答案：没有答题✘ 正确答案：对 本题解释

14、客车上的安全玻璃在紧急情况下可起到救生的作用。

您的答案：没有答题✘ 正确答案：对 本题解释

15、机动车转弯时速度过快，容易发生侧滑。

您的答案：没有答题✘ 正确答案：对 本题解释

16、驾驶机动车遇到这种情况时，要快速向左绕过。



您的答案：没有答题✘ 正确答案：错 本题解释

17、为发挥最大制动作用，使用驻车制动器时不可将操纵杆一次性拉紧、。

您的答案：没有答题✘ 正确答案：对 本题解释

18、驾驶机动车进入隧道口前按照隧道口标志上规定的速度调整车速。



您的答案：没有答题✘ 正确答案：对 本题解释

19、图中警察手势为停止信号。



您的答案：没有答题✘ 正确答案：对 本题解释

20、预计在超车过程中与对面来车有会车可能时，应提前加速超越。

您的答案：没有答题 **✘** 正确答案：错 本题解释

21、当车辆已偏离直线行驶方向，事故已经无可避免时，应果断地连续踏制动踏板，尽量缩短停车距离，减轻撞车力度。

您的答案：没有答题 **✘** 正确答案：对 本题解释

22、驾驶有 ABS 系统的机动车采取紧急制动时不要将踏板一次踏到底。

您的答案：没有答题 **✘** 正确答案：错 本题解释

23、在泥泞路段遇驱动车轮空转打滑时如何处置？

- 
- A、在从动轮下铺垫砂石
- B、换高速挡加速猛冲
- C、在驱动轮下铺垫砂石
- D、猛打转向盘配合急加速
- 

您的答案：没有答题 **✘** 正确答案：C 本题解释

24、驾驶机动车遇到这样的情景怎样行驶？

- A、连续鸣喇叭
- B、快速通过
- C、减速慢行
- D、从一侧





绕行

您的答案：没有答题 **X** 正确答案：C 本题解释

25、图中警察手势为什么信号？

- A、示意车辆靠边停车
- B、减速慢行
- C、变道
- D、停止



您的答案：没有答题 **X** 正确答案：C 本题解释

26、驾驶机动车超车时遇到这样的情况怎样保证安全？

- A、减速保持安全距离
- B、连续鸣喇叭提示
- C、保持距离加速通过
- D、占用对向车道超越



您的答案：没有答题 **X** 正确答案：A 本题解释

27、如图标志的含义是什么？

- A、只准一切车辆向右转弯
- B、只准一切车辆单向行驶
- C、只准一切车辆靠右侧行驶
- D、只准一切车辆靠左侧行驶





您的答案：没有答题 **X** 正确答案：**A** 本题解释

28、行车中制动突然失灵时，驾驶人要怎样进行减速？



- A、连续踩踏制动踏板
- B、利用“抢挡”或驻车制动
- C、迅速踏下离合器踏板
- D、迅速拉紧驻车制动器操纵杆

您的答案：没有答题 **X** 正确答案：**B** 本题解释

29、如图标志的含义是什么？



- A、禁止车辆临时停放
- B、停车让行
- C、禁止车辆临时或长时停放
- D、禁止机动车驶入



您的答案：没有答题 **X** 正确答案：**B** 本题解释

30、遇紧急情况避险时，要沉着冷静，坚持什么样的处理原则？



- A、先避人后避物
- B、先避物后避车
- C、先避车后避人
- D、先避物后避人

您的答案：没有答题 **X** 正确答案：**A** 本题解释

31、夜间会车要在距对方来车多少米以外改用近光灯？

- 
- A、30
- B、50
- C、100
- D、150
- 

您的答案：没有答题 **X** 正确答案：**D** 本题解释

32、在这种情况下被超机动车驾驶人怎样要对？

- A、鸣喇叭进行警告
- B、冷静减速或停车
- C、开远光灯抗议
- D、加速反超后告诫



您的答案：没有答题 **X** 正确答案：**B** 本题解释

33、机动车燃油着火时，不能用于灭火的是什么？

- 
- A、路边沙土
- B、棉衣
- C、工作服
- D、水
- 

您的答案：没有答题 **X** 正确答案：**D** 本题解释

34、机动车驶近坡道顶端等影响安全视距的路段时，要如何保证安全？

- 
- A、快速通过
- B、使用危险报警闪光灯
- C、减速慢行并鸣喇叭示意
- D、随意通行
- 

您的答案：没有答题 **X** 正确答案：C 本题解释

35、夜间驾驶机动车在窄路或者窄桥遇自行车对向驶来时，要怎样使用灯光？

- 
- A、连续变换远、近光灯
- B、使用示廓灯
- C、使用远光灯
- D、使用近光灯
- 

您的答案：没有答题 **X** 正确答案：D 本题解释

36、驾驶机动车在冰雪路面怎样跟车行驶？

- 
- A、保持较大的安全距离
- B、开启危险报警闪光灯
- C、不断变换前照灯远近光
- D、适时鸣喇叭提示前车
- 

您的答案：没有答题 **X** 正确答案：A 本题解释

37、如动画所示，驾驶机动车遇到这种情况要如何处置？

- A、借对向车道行驶
- B、急剧制动低速通过
- C、靠弯道外侧行驶



D、充分减速并靠右侧行驶

您的答案：没有答题 **X** 正确答案：D 本题解释

38、制动防抱死装置系统(ABS)在什么情况下，可以最大限度发挥制动器效能？

- A、间歇制动
- B、持续制动
- C、缓踏制动踏板
- D、紧急制动

您的答案：没有答题 **X** 正确答案：D 本题解释

39、转向失控后，若车辆偏离直线行驶方向，应怎样使车辆尽快减速停车？

- A、轻踏制动踏板
- B、拉紧驻车制动器操纵杆
- C、迅速抢挡减速
- D、果断地连续踩踏、放松制动踏板

您的答案：没有答题 **X** 正确答案：D 本题解释

40、驾驶机动车在冰雪路面怎样安全超车？

- A、开启前照灯
- B、连续鸣喇叭
- C、增大横向间距
- D、加速尽快超越

您的答案：没有答题 **X** 正确答案：C 本题解释

41、驾驶机动车在这种条件的弯道处怎样转弯最安全？

- A、减速靠右侧行驶
- B、骑轧路中心行驶
- C、靠弯道外侧行驶
- D、借对向车道行驶



您的答案：没有答题 **X** 正确答案：A 本题解释

42、夜间行车中，前方出现弯道时，灯光照射如何变化？

- A、距离不变
- B、由高变低
- C、离开路面
- D、由路中移到路侧

您的答案：没有答题 **X** 正确答案：D 本题解释

43、抢救失血伤员时，要先采取什么措施？

- A、观察
- B、包扎
- C、止血
- D、询问

您的答案：没有答题 **X** 正确答案：C 本题解释

44、赵某(持有 A2 驾驶证)驾驶大型卧铺客车，行驶至叶城县境内 219 国道 226 公里加 215 米处转弯路段时，坠入道路一侧山沟，致 16 人死亡，26 人受伤。赵某的主要违法行为是什么？

- 
- A、客车超员
- B、驾驶逾期未检验的机动车
- C、驾驶与准驾车型不符的机动车
- D、疲劳驾驶
- 

您的答案：没有答题 **X** 正确答案：C 本题解释

45、下坡路行驶，制动突然失效后，可采用的减速方法是什么？

- 
- A、利用道路边专设避险车道停车
- B、用车身靠向路旁的岩石或树木碰擦
- C、首先拉紧驻车制动
- D、抢挂低速档
- 

您的答案：没有答题 **X** 正确答案：ABD 本题解释

46、吴某驾驶一辆大客车，乘载 33 人(核载 22 人)，行至 163 县道 7 公里加 300 米处时，机动车失控坠入山沟，造成 10 人死亡、21 人受伤。事后经酒精检测，吴某血液酒精含量为 26 毫克/百毫升。吴某的主要违法行为是什么？

- A、超速行驶
- B、客车超员
- C、疲劳驾驶
- D、酒后驾驶

您的答案：没有答题 **✘** 正确答案：**BD** 本题解释

47、机动车通过隧道时，禁止以下哪些行为？

- A、超车
- B、停车
- C、掉头
- D、倒车

您的答案：没有答题 **✘** 正确答案：**ABCD** 本题解释

48、机动车在高速行驶中，突然爆胎要采取的安全措施是什么？

- A、紧急制动,靠边停车
- B、牢牢地握住转向盘,保持直行
- C、立即松开加速踏板
- D、轻踩制动踏板

您的答案：没有答题 **✘** 正确答案：**BCD** 本题解释

49、机动车行驶至转弯路段时，易引发事故的驾驶行为有什么？

- A、机动车占对向道行驶
- B、在弯道内急转转向盘
- C、在驶入弯道前不减速
- D、机动车靠路右侧行驶



您的答案：没有答题  正确答案：ABC 本题解释

50、在泥泞道路上行车时，采取的正确做法是什么？

A、尽量避免使用行车制动器

B、选用中低速挡慢速行驶

C、稳握转向盘

D、加速通过

您的答案：没有答题  正确答案：ABC 本题解释

驾校一点通安全文明常识模拟考试

总分 100 分（90 分过关）

2013 年新版安全文明题库！若觉得好用，请多帮忙宣传或转发！

1、突然出现这种情况，驾驶人要及时减速或停车避让。



您的答案：没有答题 **✘** 正确答案：对 本题解释

2、夜间跟车行驶时，后车可以使用远光灯。

您的答案：没有答题 **✘** 正确答案：错 本题解释

3、如图是禁止掉头标志。



您的答案：没有答题 **✘** 正确答案：错 本题解释

4、驾驶机动车在冰雪路面上紧急制动时，容易产生侧滑。

您的答案：没有答题 **✘** 正确答案：对 本题解释

5、行车前要对机动车驾驶室、发动机舱、车外部、轮胎进行检查。

您的答案：没有答题❌ 正确答案：对 本题解释

6、驾驶机动车在该处不影响行人正常通行的情况下可以掉头。



您的答案：没有答题❌ 正确答案：错 本题解释

7、驾驶大型车的驾驶人不需要系安全带。

您的答案：没有答题❌ 正确答案：错 本题解释

8、车速较高前方发生紧急情况时，要先转方向避让，再采取制动减速，以减小碰撞损坏程度。

您的答案：没有答题❌ 正确答案：错 本题解释

9、驾驶机动车在居民小区遇到这种情形要紧跟其后行驶。



您的答案：没有答题❌ 正确答案：错 本题解释

10、遇儿童在公路嬉戏打闹时，应连续鸣喇叭，快速通过。

您的答案：没有答题✘ 正确答案：错 本题解释

11、驾驶机动车遇到这种情况要迅速向左变更车道。



您的答案：没有答题✘ 正确答案：错 本题解释

12、夜间行车，车速在每小时 30 公里以下时，应使用远光灯。

您的答案：没有答题✘ 正确答案：错 本题解释

13、移动脊柱骨折的伤员，要有两名以上人员扶持移动。

您的答案：没有答题✘ 正确答案：错 本题解释

14、驾驶机动车在雨雪天气发生侧滑时，要采取紧急减速措施停车。

您的答案：没有答题✘ 正确答案：错 本题解释

15、如动画所示，驾驶人的行为是正确的。



您的答案：没有答题❌ 正确答案：错 本题解释

16、驾驶机动车在这种情况下要跟车进入路口等待。



您的答案：没有答题❌ 正确答案：错 本题解释

17、驾驶机动车从辅路汇入主路车流时要迅速。

您的答案：没有答题❌ 正确答案：错 本题解释

18、如图标志表示前方有合流车道，注意与驶入主车道的车辆保持安全距离。



您的答案：没有答题❌ 正确答案：对 本题解释

19、驾驶机动车在这个路段允许超车。



您的答案：没有答题 **✘** 正确答案：错 本题解释

20、夜间汽灯光照射距离由近变远，表明机动车可能已进入下坡道。

您的答案：没有答题 **✘** 正确答案：对 本题解释

21、在冰雪路面行车，要尽量利用行车制动进行减速。

您的答案：没有答题 **✘** 正确答案：错 本题解释

22、驾驶大型机动车在高速公路以每小时 100 公里的速度行驶时，跟车安全距离为 50 米。

您的答案：没有答题 **✘** 正确答案：错 本题解释

23、如图标志的含义是什么？



- A、机动车行驶车道
- B、小客车单向通行车道
- C、试车专用车道
- D、小客车专用车道



您的答案：没有答题 **X** 正确答案：A 本题解释

24、如图标志的含义是什么？



- A、地名
- B、旅游区距离
- C、旅游区方向
- D、出口预告



您的答案：没有答题 **X** 正确答案：B 本题解释

25、如图标志表示的含义是什么？



- A、只准一切车辆向右转弯
- B、只准一切车辆靠右侧行驶
- C、只准一切车辆靠左侧行驶
- D、只准一切车辆向左转弯



您的答案：没有答题 **X** 正确答案：D 本题解释

26、机动车行驶过程中起火，驾驶人错误的做法是什么？



- A、跳车逃离
- B、使用灭火器灭火
- C、将车停至空旷路段
- D、驾车远离加油站

您的答案：没有答题 **X** 正确答案：A 本题解释

27、机动车上高速公路，以下哪种说法是正确的？



- A、可在匝道、加速车道、减速车道上超车
- B、不准倒车、逆行、穿越中央分隔带掉头
- C、非紧急情况时可在应急车道行驶
- D、可以试车或学习驾驶

您的答案：没有答题 **X** 正确答案： **B** 本题解释

28、机动车在交叉路口有优先通行权的，遇有机动车抢行时怎么办？



- A、抢行通过
- B、提前加速通过
- C、按优先权规定正常行驶不予避让
- D、减速避让,必要时停车让行

您的答案：没有答题 **X** 正确答案： **D** 本题解释

29、如图标志的含义是什么？



- A、两侧变窄
- B、左侧变窄
- C、右侧变窄
- D、减速



您的答案：没有答题 **X** 正确答案： **C** 本题解释

30、驾驶机动车在山区道路因故障停车需要注意什么？



- A、选择下坡路段停放
- B、选择上坡路段停放
- C、选择平缓路段停放
- D、选择坡顶位置停放





您的答案：没有答题 **X** 正确答案： **C** 本题解释

31、驾驶机动车变更车道时，属于交通陋习的是什么行为？



- A、提前开启转向灯
- B、仔细观察后变更车道
- C、随意并线
- D、不得妨碍其他车道正常行驶的车

您的答案：没有答题 **X** 正确答案： **C** 本题解释

32、驾驶装有动力转向的机动车发现转向困难怎样处置？



- A、停车查明原因
- B、控制转向缓慢行驶
- C、降低车速行驶
- D、保持机动车直线行驶

您的答案：没有答题 **X** 正确答案： **A** 本题解释

33、如图标志的含义是什么？



- A、驼峰路
- B、房屋
- C、隧道
- D、村庄



您的答案：没有答题 **X** 正确答案： **C** 本题解释

34、行车中遇到对向来车占道行驶时怎么办？



- A、紧靠道路中心行驶
- B、主动给对方让行
- C、用大灯警示对方
- D、逼对方靠右行驶

您的答案：没有答题 **X** 正确答案： **B** 本题解释

35、夜间机动车通过照明条件良好的路段时，要怎样使用灯光？



- A、前后雾灯
- B、近光灯
- C、远光灯
- D、危险报警闪光灯

您的答案：没有答题 **X** 正确答案： **B** 本题解释

36、山区道路对安全行车的主要影响是什么？



- A、道路标志少
- B、交通情况单一
- C、坡长弯急，危险路段多
- D、车流密度大

您的答案：没有答题 **X** 正确答案： **C** 本题解释

37、机动车驶离高速公路时，应当开启什么灯？

- A、左转向灯
- B、右转向灯
- C、危险报警闪光灯
- D、前照灯

您的答案：没有答题 **X** 正确答案： **B** 本题解释

38、大雨天在高速公路行车时，怎样避免发生“水滑”现象？

- A、安装防滑装置
- B、提高车速行驶
- C、降低车速行驶
- D、断续使用制动

您的答案：没有答题 **X** 正确答案： **C** 本题解释

39、驾驶机动车遇到这种情况怎样行驶？

- A、加速从左侧超越
- B、连续鸣喇叭告知
- C、紧跟在自行车后
- D、减速避让自行车



您的答案：没有答题 **X** 正确答案： **D** 本题解释

40、在泥泞路段遇驱动车轮空转打滑时如何处置？

- A、在从动轮下铺垫砂石
- B、换高速挡加速猛冲
- C、在驱动轮下铺垫砂石

D、猛打转向盘配合急加速

您的答案：没有答题 **X** 正确答案： **C** 本题解释

41、在车速较高可能与前方机动车发生碰撞时，驾驶人要采取什么措施？

A、先制动减速,后转向避让

B、急转方向向左避让

C、急打方向,向右避让

D、先转向避让,后制动减速

您的答案：没有答题 **X** 正确答案： **A** 本题解释


42、如图所示标线的含义是什么？

A、禁止路边临时停放车辆

B、禁止路边长时或临时停放车辆

C、禁止路边长时停放车辆

D、路边可以长时或临时停放车辆



您的答案：没有答题 **X** 正确答案： **B** 本题解释

43、如图标志的含义是什么？

A、向右行驶

B、绕行

C、向左急弯路

D、向右急弯路

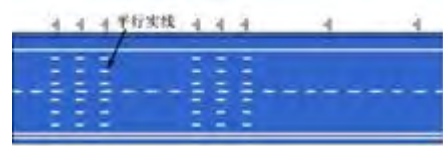


您的答案：没有答题 **X** 正确答案：**C** 本题解释

44、如图所示平行于路边的白色平行实线的含义是什么？



- A、高速公路车距确认
- B、人行横道
- C、停车带
- D、收费岛地面



您的答案：没有答题 **X** 正确答案：**A** 本题解释

45、周某夜间驾驶大货车在没有路灯的城市道路上以 90 公里/小时的速度行驶，一直开启远光灯，在通过一窄路时，因加速抢道，导致对面驶来的一辆小客车撞上右侧护栏。周某的主要违法行为是什么？



- A、超速行驶
- B、不按规定会车
- C、疲劳驾驶
- D、不按规定使用灯光

您的答案：没有答题 **X** 正确答案：**ABD** 本题解释

46、机动车因故障必须在高速公路上停车时，要采取的正确做法是什么



- A、在车后 150 米处设置故障警告标志
- B、在车后 100 米处设置故障警告标志
- C、夜间要开启示廓灯和后位灯
- D、要开启危险报警闪光灯

您的答案：没有答题 **✘** 正确答案：**ACD** 本题解释

47、石某驾驶低速载货机动车，运载 4.05 吨货物(核载 1.2 吨)，行驶至宁津县境内 314 省道 51 公里加 260 米处，在超越前方同向行驶的机动车时，与对向正常行驶的中型客车(乘载 12 人，核载 11 人)正面相撞，造成 10 人死亡、2 人受伤。此事故中的违法行为有？

- A、货车超载
- B、货车违法超车
- C、客车超员
- D、客车驾驶人疲劳驾驶

您的答案：没有答题 **✘** 正确答案：**ABC** 本题解释

48、机动车在高速行驶中，突然爆胎要采取的安全措施是什么？

- A、紧急制动,靠边停车
- B、牢牢地握住转向盘,保持直行
- C、立即松开加速踏板
- D、轻踩制动踏板

您的答案：没有答题 **✘** 正确答案：**BCD** 本题解释

49、机动车在高速公路上行驶，遇有雾、雨、雪且能见度在 100 米至 200 米之间时，应该怎么做？

- A、开启雾灯、近光灯、示廓灯、前后位灯
- B、车速不超过 60km/h
- C、与同车道前车保持 100 米以上的距离
- D、从最近的出口尽快驶离高速公路



您的答案：没有答题 **✘** 正确答案：**ABC** 本题解释

50、雾天机动车在道路上通行，驾驶人要怎样做？



- A、减速慢行
- B、保持安全车距
- C、正确使用灯光
- D、高速行驶



您的答案：没有答题 **✘** 正确答案：**ABC** 本题解释

## 驾校一点通安全文明常识模拟考试

总分 100 分（90 分过关）

2013 年新版安全文明题库！若觉得好用，请多帮忙宣传或转发！

1、在铁路道口、窄路、弯道、桥梁、隧道、涵洞等地方允许掉头。

您的答案：没有答题 **✘** 正确答案：错 本题解释

2、未安装制动防抱死装置(ABS)的车辆，驾驶人发现汽车偏离方向时，应立即松开制动踏板，待方向得到控制后再踏制动踏板。

您的答案：没有答题 **✘** 正确答案：对 本题解释

3、下坡路制动失效后，若无可利用的地形和时机，应迅速逐级或越一级减挡，利用发动机制动作用控制车速。

您的答案：没有答题 **✘** 正确答案：对 本题解释

4、白天驾驶机动车进入隧道后驾驶人眼睛有个明适应过程。

您的答案：没有答题 **✘** 正确答案：错 本题解释

5、驾驶机动车遇到这种情况不要减速。





您的答案：没有答题❌ 正确答案：错 本题解释

6、在这种能见度的情况下起步要开启近光灯。



您的答案：没有答题❌ 正确答案：对 本题解释

7、驾驶机动车遇到成群青少年绕过路边停放的机动车时，要主动减速让行。

您的答案：没有答题❌ 正确答案：对 本题解释

8、驾驶机动车在这种情况下临时停车后，为避免机动车后溜可将转向盘向左转。



您的答案：没有答题❌ 正确答案：对 本题解释

9、驾驶机动车通过十字立交桥右转弯，要在过桥后开启右转向灯进入右侧匝道。

您的答案：没有答题❌ 正确答案：错 本题解释

10、驾驶机动车在雾天条件下起步一定要开启远光灯。

您的答案：没有答题✘ 正确答案：错 本题解释

11、如图标志的含义是表示前方 300 米道路封闭。



您的答案：没有答题✘ 正确答案：对 本题解释

12、在正常行车中，尽量靠近中心线或压线行驶，不给对方机动车留有侵占行驶路线的机会。

您的答案：没有答题✘ 正确答案：错 本题解释

13、车辆后轮胎爆裂，车尾会摇摆不定，驾驶人应双手紧握转向盘，控制车辆保持直线行驶，减速停车。

您的答案：没有答题✘ 正确答案：对 本题解释

14、如图是双向弯路标志。



您的答案：没有答题✘ 正确答案：错 本题解释

15、驾驶机动车在高速公路匝道上不准停车。

您的答案：没有答题✘ 正确答案：对 本题解释

16、驾驶机动车在这个路口可以直接向右转弯。



您的答案：没有答题✘ 正确答案：错 本题解释

17、驾驶机动车下坡使用缓速器可以完全代替行车制动装置。

您的答案：没有答题✘ 正确答案：错 本题解释

18、雪天行车中，在有车辙的路段要循车辙行驶。

您的答案：没有答题✘ 正确答案：对 本题解释

19、驾驶机动车遇到骑自行车人占道影响通行时，可连续鸣喇叭加速从其左侧绕行。

您的答案：没有答题✘ 正确答案：错 本题解释

20、机动车通过铁道路口时，应用低速挡安全通过，中途不得换挡，以避免发动机熄火。

您的答案：没有答题✘ 正确答案：对 本题解释

21、行车中遇到盲人和其他行动不便的行人，应该减速慢行，必要时停车。

您的答案：没有答题 **✘** 正确答案：对 本题解释

22、驾驶机动车向左变更车道遇到这种情况要注意让行。



您的答案：没有答题 **✘** 正确答案：对 本题解释

23、驾驶机动车在这样的路面如何安全行驶？

- A、空挡滑行通过
- B、保持高速行驶通过
- C、适当加速通过
- D、低速缓慢通过



您的答案：没有答题 **✘** 正确答案：D 本题解释

24、驾驶未安装制动防抱死装置(ABS)的机动车在冰雪路面怎样使用制动？

- A、轻踏或间歇踩踏制动踏板
- B、与其他路面一样踏制动踏板
- C、重踏制动踏板
- D、猛踏制动踏板



您的答案：没有答题 **X** 正确答案：**A** 本题解释

25、高速行驶中制动突然失灵时，驾驶人要如何制动？



- A、连续踩踏制动踏板
- B、抢挂低速档,使用驻车制动
- C、迅速踏下离合器踏板
- D、迅速拉紧驻车制动器操纵杆



您的答案：没有答题 **X** 正确答案：**B** 本题解释

26、驾驶人发现转向不灵活时，错误的做法是什么？



- A、应尽快减速停车
- B、在安全地点停车
- C、继续驾驶
- D、停车查明原因



您的答案：没有答题 **X** 正确答案：**C** 本题解释

27、如图标志的含义是什么？



- A、人行横道
- B、注意儿童
- C、徒步
- D、注意行人



您的答案：没有答题 **X** 正确答案：C 本题解释

28、驾驶机动车遇到这种情形应该注意什么？

- A、预防机动车侧滑
- B、预防儿童横穿
- C、尽快加速通过
- D、持续鸣喇叭



您的答案：没有答题 **X** 正确答案：B 本题解释

29、如图所示白色菱形图案的含义是什么？

- A、减速让行线
- B、人行横道预告标示
- C、减速让行线
- D、禁驶区标线



您的答案：没有答题 **X** 正确答案：B 本题解释

30、夜间会车应当在距相对方向来车多少米改用近光灯？

- A、50 米以内
- B、150 米以外
- C、30 米以内
- D、100 米以内

您的答案：没有答题 **X** 正确答案：B 本题解释

31、在事故现场抢救伤员的基本要求是什么？



- A、先治伤,后救命
- B、先救命,后治伤
- C、先帮助轻伤员
- D、后救助重伤员

您的答案：没有答题 **X** 正确答案： **B** 本题解释

32、高速行驶的车辆，在转向失控的情况下使用紧急制动，很容易造成什么后果？



- A、侧滑
- B、翻车
- C、车厢前移
- D、爆胎

您的答案：没有答题 **X** 正确答案： **B** 本题解释

33、如图标志的含义是什么？



- A、平均时速限制
- B、最低时速限制
- C、解除最低限速
- D、最高时速限制



您的答案：没有答题 **X** 正确答案： **B** 本题解释

34、在没有道路中心线的道路上，前车遇后车发出超车信号时，要如何处置？



- A、保持原有状态行驶
- B、加速行驶
- C、迅速停车让行
- D、在条件许可的情况下,降低速度、靠右让路



您的答案：没有答题 **X** 正确答案：D 本题解释

35、当机动车转向失控行驶方向偏离，事故已经无可避免时，要采取什么措施？



- A、紧急制动
- B、迅速转向进行调整
- C、迅速向无障碍一侧转向躲避
- D、迅速向有障碍一侧转向躲避

您的答案：没有答题 **X** 正确答案：A 本题解释

36、下长坡连续使用行车制动会造成什么不良后果？



- A、缩短发动机使用寿命
- B、驾驶人容易疲劳
- C、容易造成机动车倾翻
- D、制动器制动效果下降

您的答案：没有答题 **X** 正确答案：D 本题解释

37、轮胎气压过低时，高速行驶轮胎会出现波浪变形温度升高而导致什么情况发生？



- A、气压不稳
- B、气压更低
- C、行驶阻力增大
- D、爆胎



您的答案：没有答题 **X** 正确答案：D 本题解释

38、伤员众多时，最后送往医院的是哪一类伤员？



- A、上肢骨折
- B、大出血
- C、呼吸困难
- D、肠管脱出

您的答案：没有答题 **X** 正确答案：A 本题解释

39、在高速公路上驾驶大型机动车按照什么控制车速？



- A、最高车速规定
- B、机动车设计最高时速
- C、限速标志标明的车速
- D、车行道规定的车速

您的答案：没有答题 **X** 正确答案：C 本题解释

40、图中警察手势为什么信号？



- A、左转弯
- B、停止
- C、右转弯
- D、示意车辆靠边停车



您的答案：没有答题 **X** 正确答案：D 本题解释

41、如图标志的含义是什么？

- 
- 
- 
- 
- 

- A、左侧通行
- B、右侧通行
- C、禁止通行
- D、两侧通行



您的答案：没有答题 **X** 正确答案：D 本题解释

42、驾驶机动车在有这种标志的路口怎样通过最安全？

- A、停车观察主路情况
- B、加速尽快进入主路
- C、减速观察左后方情况
- D、减速缓慢进入主路



您的答案：没有答题 **X** 正确答案：D 本题解释

43、在同方向只有一条机动车道的道路上，前车遇后车发出超车信号时，要如何处置？

- 
- 
- 
- 
- 

- A、在条件许可的情况下,降低速度靠右让行
- B、加速靠右让行
- C、及时停车靠右让行
- D、保持正常行驶速度靠右让行

您的答案：没有答题 **X** 正确答案：A 本题解释

44、轮胎气压过低时，高速行驶可能导致什么结果？



- A、气压不稳
- B、气压增高
- C、行驶阻力减小
- D、爆胎

您的答案：没有答题 **X** 正确答案：D 本题解释

45、机动车因故障必须在高速公路上停车时，要采取的正确做法是什么



- A、在车后 150 米处设置故障警告标志
- B、在车后 100 米处设置故障警告标志
- C、夜间要开启示廓灯和后位灯
- D、要开启危险报警闪光灯

您的答案：没有答题 **X** 正确答案：ACD 本题解释

46、某日 3 时 40 分，孙某驾驶大客车(乘载 54 人、核载 55 人)行至随岳高速公路 229 公里加 300 米处，在停车下客过程中，被后方驶来李某驾驶的重型半挂机动车追尾，造成 26 人死亡，29 人受伤。事后查明，李某从昨日 18 时许出发，途中一直未休息。双方驾驶人的主要违法行为是什么？



- A、孙某违法停车下客
- B、孙某客车超员
- C、李某超速
- D、李某疲劳驾驶

您的答案：没有答题 **X** 正确答案：AD 本题解释

47、机动车避免爆胎的正确做法是什么？

- 
- A、降低轮胎气压
- B、定期检查轮胎
- C、及时清理轮胎沟槽内的异物
- D、更换有裂纹或损伤的轮胎
- 

您的答案：没有答题❌ 正确答案：BCD 本题解释

48、吴某驾驶一辆大客车，乘载 33 人(核载 22 人)，行至 163 县道 7 公里加 300 米处时，机动车失控坠入山沟，造成 10 人死亡、21 人受伤。事后经酒精检测，吴某血液酒精含量为 26 毫克/百毫升。吴某的主要违法行为是什么？

- 
- A、超速行驶
- B、客车超员
- C、疲劳驾驶
- D、酒后驾驶
- 

您的答案：没有答题❌ 正确答案：BD 本题解释

49、戚某驾驶大客车，乘载 28 人(核载 55 人)，由南向北行至一无交通信号控制的交叉路口，以 50 公里的时速与由东向西行至该路口李某驾驶的重型半挂牵引车(核载 40 吨，实载 55.2 吨)侧面相撞，造成 12 人死亡、17 人受伤。此事故中的主要违法行为是什么？

- 
- A、客车超员
- B、客车超速行驶
- C、货车超载
- D、货车驾驶人经验不足
- 

您的答案：没有答题❌ 正确答案：BC 本题解释

50、机动车在高速公路上行驶，遇有雾、雨、雪且能见度在 100 米至 200 米之间时，应该怎么做？

- A、开启雾灯、近光灯、示廓灯、前后位灯
- B、车速不超过 60km/h
- C、与同车道前车保持 100 米以上的距离
- D、从最近的出口尽快驶离高速公路

您的答案：没有答题 ✘ 正确答案：ABC 本题解释